


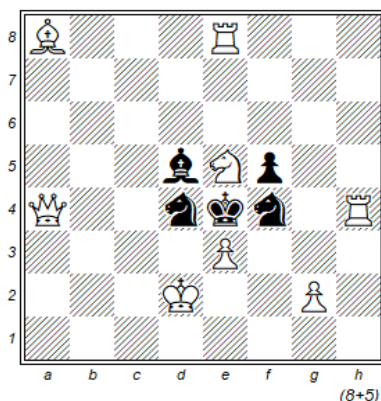
Aufgaben zum Jugend-Lösungsturnier Hagenbach am 30.9.2023 (Abt. B)

Aufgabe Nr. 1



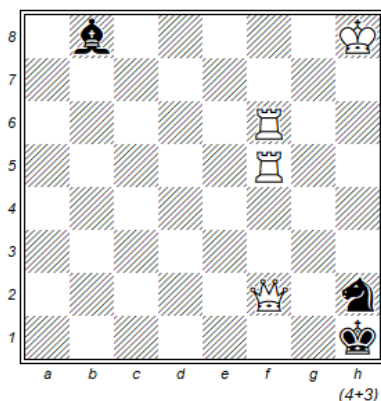
Weiß droht 2.e4 matt. Finde alle schwarzen Züge, welche dieses Matt verhindern. (6 Züge)

Aufgabe Nr. 2



Matt in 1 Zug. Finde alle möglichen weißen Mattzüge. (7 Mattzüge)

Aufgabe Nr. 3



Weiß hat 2 Möglichkeiten, den sSh2 zu fesseln und Df1# zu drohen. Welche ist die richtige?

Viel Freude mit den Aufgaben und viel Erfolg !!!